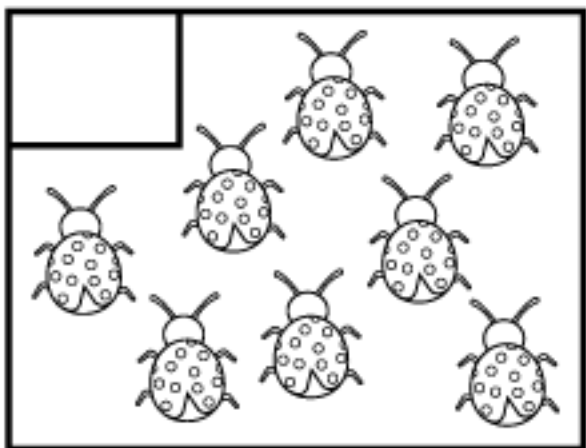
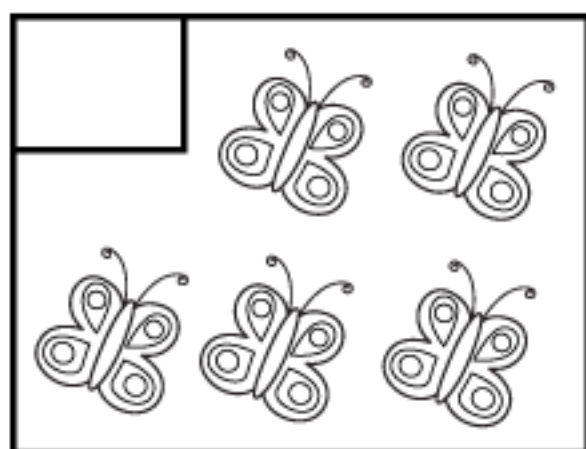



# RELACIONE PARES E ÍMPARES



www.smartkids.com.br

Escreva a quantidade de elementos em cada quadro e em seguida relacione a coluna da esquerda com a coluna da direita:



PARES

ÍMPARES

resp: quadro 1: 7 flores - ímpares; quadro 2:  
5 borboletas - ímpares; quadro 3:  
8 joaninhas - pares