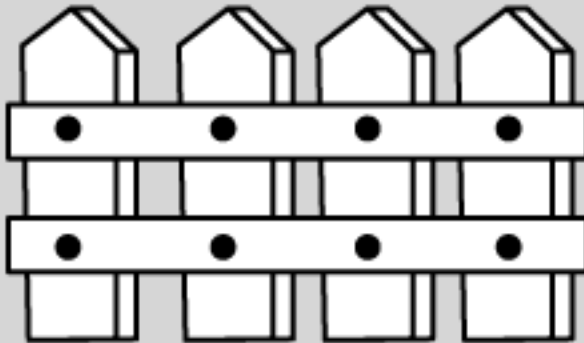


CERCA DA MULTIPLICAÇÃO



www.smartkids.com.br

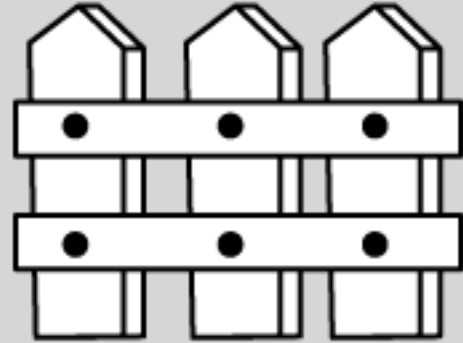
Observe a quantidade de pregos usados nas cercas:



$$2 + 2 + 2 + 2 = 8$$

OU

$$4 \times 2 = 8 \text{ (4 vezes o 2)}$$

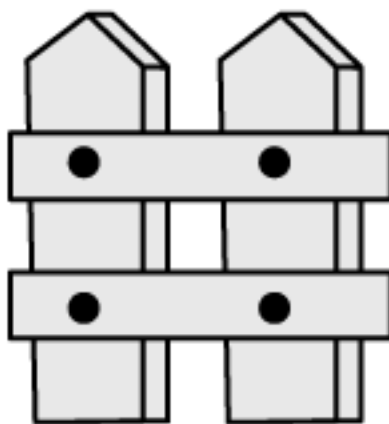


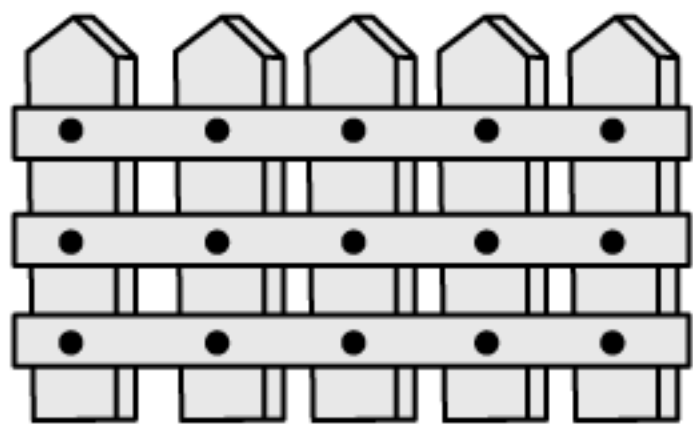
$$2 + 2 + 2 = 6$$

OU

$$3 \times 2 = 6 \text{ (3 vezes o 2)}$$

Agora escreva uma adição e uma multiplicação para indicar a quantidade de pregos usados nestas cercas:





© SMARTKIDS
